
平成31年度 第3回

桐蔭学園 中等教育学校 学力検査問題

社 会

平成31年2月3日 施行

注意事項

1. 試験開始の合図があるまで、この冊子の中を見てはいけません。
2. 机の上には、えんぴつ・シャープペンシル・消しゴム・受験票・座席券・時計以外のものを置いてはいけません。受験生どうしの貸し借りもできません。また、机の中には何も入れてはいけません。
3. けいたい電話は、必ず電源を切って、かばんの中に入れておいてください。
4. 問題冊子の印刷が見えづらかったり、ページが不足したりしている場合、また、えんぴつなどを落としたり、体の調子が悪くなったりした時は、だまって手をあげてください。
5. 問題冊子のあいているところは自由に利用してかまいませんが、どのページも切りはなしてはいけません。
6. 記述問題において、小学校で習わない漢字はひらがなで書いてもかまいません。
7. 問題は11ページまであります。
8. 問題冊子は持ち帰ってください。

1 次の図1をみて、あとの問いに答えなさい。

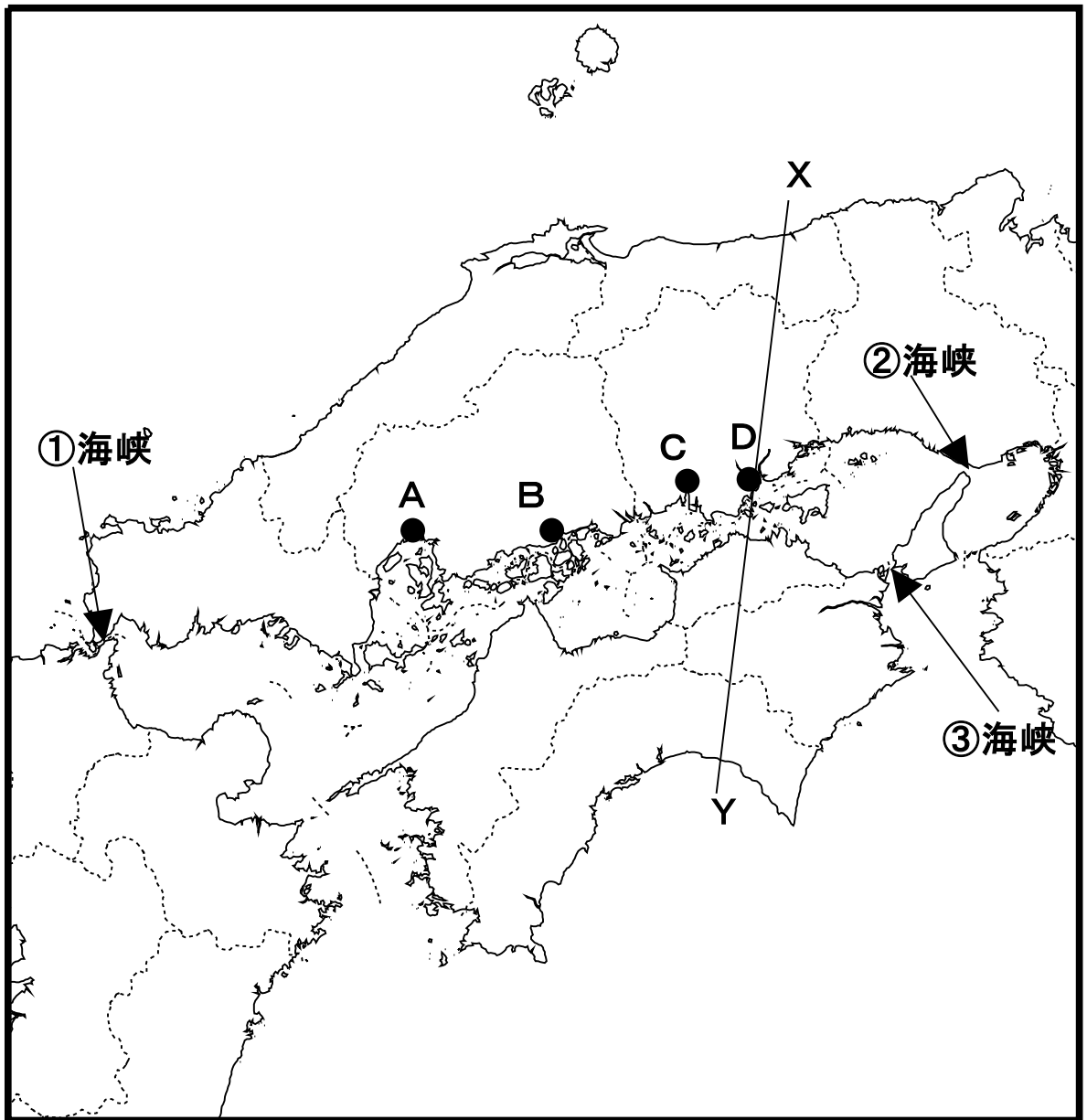


図1

問1 図1中の①～③の海峡名を、漢字またはひらがなで答えなさい。

問2 図1中の①と③の海峡は何県と何県の県境になっていますか。あてはまる県名を漢字またはひらがなで、それぞれ2つずつ答えなさい。(解答の順番は問わない)

問3 次の図2は図1のX-Y断面図を示しています。④～⑥の砂丘、平野などを、漢字またはひらがなで答えなさい。




図2

問4 次の統計ア～エは、みかん、のり、ぶどう、牡蠣のいずれかの県別生産、または収穫（2015年「日本国勢図会」による）の上位を示しています。牡蠣にあてはまるものを次のア～エの中から1つ選び、記号で答えなさい。

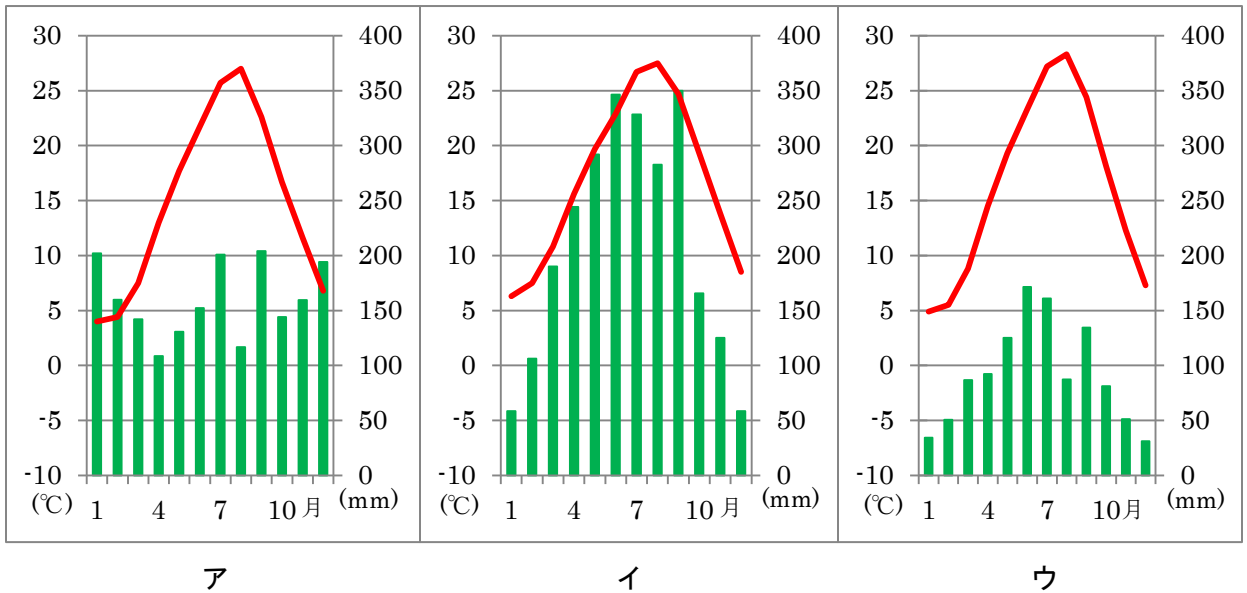
- ア 広島県 65%、宮城県 11%、岡山県 6%
- イ 山梨県 23%、長野県 16%、山形県 10%、岡山県 9%
- ウ 和歌山県 21%、愛媛県 16%、静岡県 13%、熊本県 10%
- エ 兵庫県 23%、佐賀県 22%、福岡県 14%

問5 2018年7月、大規模な災害が発生した倉敷市真備町の場所を、図1のA～Dの中から1つ選び、記号で答えなさい。

問6 倉敷市真備町で発生した大規模な災害とは何ですか。次のア～エの中から1つ選び、記号で答えなさい。

- ア 津波 イ 地震 ウ 洪水 エ 火山噴火

問7 次の図ア～ウは、鳥取市、岡山市、高知市のいずれかの雨温図（2015年「理科年表」による）を示しています。岡山市の雨温図にあてはまるものを次のア～ウの中から1つ選び、記号で答えなさい。



問8 問7の3つの雨温図のうち、岡山市にあてはまる雨温図について、降水量の特色を説明しなさい。その際、次の【】内の語句を全て1回以上使うこと。

【 夏も冬も 山地 少ない 】

問題は次のページに続きます。

2 次の文を読んで、あとの問いに答えなさい。

- (1) 奈良時代、国家の財政、軍事を支えたのは人口の多くをしめる農民でした。6年ごとにつくられる戸籍にもとづいて口分田をあたえられ、稲の収穫高の約（ A ）を納めました。重い①税負担から逃れるために、田を捨てて逃亡する者もいました。
- (2) 鎌倉時代は武士が中心の世となりました。この時代には農業技術が発達しました。西国では米の裏作に麦をつくる（ B ）が増え、東国でも（ C ）を中心に土地の開発が進められました。
- (3) 室町時代には、足利義満は明に朝貢することによって、日本国の支配者であることを明の皇帝の権威によって認められ、日本と明との間で②勘合貿易が行われました。東アジアの各国の間でも、さかんに貿易などの交流が行われ、国内では、③農業や商業、手工業が発達し、しだいに民衆が力を持つようになりました。
- (4) 尾張の織田信長は、今川義元を桶狭間の戦いで破り勢力を広げ、1573年に幕府を滅ぼしました。また、1575年には甲斐の武田氏を長篠の戦いで破り、翌年には④安土城を築きました。城下町をつくり、家臣を集めたねらいは、家臣の反乱を防止するほかに、すばやく軍事動員を可能にすることにあります。
- (5) 徳川家康が江戸に幕府を開きました。幕府も藩も特産物をつくる産業に力を入れたため、各地の産業は発展しました。江戸時代の（ D ）は、五街道や各地を結ぶ海の航路の整備により、全国各地から年貢米や特産物などが運びこまれ、商業の中心地となったことから、「天下の台所」と呼ばれ栄えました。
- (6) 明治政府は、一等国を目指し富国強兵を実現するために、税制を改め安定した歳入を得る必要がありました。そのため⑤地券を発行し、⑥地租改正を実施しました。日本の産業革命は、1880年代以降の繊維工業などの軽工業から始まり、日清戦争後には⑦八幡製鉄所が建設され、重工業も発達しました。しかし、その発達の背景にはひどい労働条件や⑧公害発生などの問題もかかえていました。

(7) 日本は第二次世界大戦に国の総力をつぎこみ、多くを失いました。しかし、⑨戦後の1950年代には、ほぼ戦前の経済水準まで復興、さらに経済成長率が10%をこえるような成長を続けました。

問1 文中の (A) にあてはまる最も適当なものを、次のア～エの中から1つ選び、記号で答えなさい。

ア 3% イ 5% ウ 8% エ 10%

問2 下線部①の税負担の1つである、地方の特産物を納める税は何と呼ばれましたか。漢字で答えなさい。

問3 文中の (B) にあてはまる農業のしかたは何と呼ばれましたか。漢字で答えなさい。

問4 文中の (C) にあてはまる、公領や^{しやうえん}荘園ごとに置かれ、年貢を集めた武士を、次のア～エの中から1つ選び、記号で答えなさい。

ア 守護 イ ^{げし}下司 ウ 地頭 エ ^{かんれい}管領

問5 下線部②について、日本から中国への輸出品として最も適当なものを、次のア～エの中から1つ選び、記号で答えなさい。

ア 銅銭 イ 銅 ウ 生糸 エ 絹織物

問6 下線部③の室町時代の農業について述べた文として誤っているものを、次のア～エの中から1つ選び、記号で答えなさい。

- ア 茶・^{くわ}桑・あいなどの商品作物の^{さいばい}栽培が広まった。
- イ かんがいに水車が使われるようになった。
- ウ 肥料に牛馬のふんやたい肥が用いられるようになった。
- エ ^{びちちゆう}備中ぐわや^{せんぼ}千歯こきなどの新しい農具が使われた。

問7 下線部④について、市場の税を^{めんじよ}免除し、安土城下の商工業の発展のために信長が出した命令を何といいますか。漢字で書きなさい。

問8 文中の(D)にあてはまる、最も適当なものを、次のア～エの中から1つ選び、記号で答えなさい。

ア 京都きょうと イ 大阪おおさか ウ 江戸 エ 長崎ながさき

問9 下線部⑤について、地券に示されているものとして誤っているものは何ですか。次のア～エの中から1つ選び、記号で答えなさい。

ア 面積 イ 土地所有者名 ウ 地価 エ 収穫高

問10 下線部⑥について、明治政府は1873年の地租改正により、安定して税金を得ることが可能になりました。その理由を20～30字以内で説明しなさい。

問11 下線部⑦について、八幡製鉄所はどこに建設されましたか。次のア～エの中から1つ選び、記号で答えなさい。

ア 山口県やまぐち イ 長崎県 ウ 佐賀県 エ 福岡県

問12 下線部⑧について、この時期の有名な公害として足尾銅山鉛毒事件があります。この事件に生涯しょうがいをかけて取り組んだ人物を、次のア～エの中から1つ選び、記号で答えなさい。

ア 幸徳秋水こうとくしゅうすい イ 内村鑑三うちむらかんぞう ウ 田中正造たなかしょうぞう エ 黒田清隆くろだきよたか

問13 下線部⑨ころの頃の日本経済について述べた文として最も適当なものを、次のア～エの中から1つ選び、記号で答えなさい。

- ア 軽工業に続き、重工業で近代化が進行した。
- イ 初めて輸出が輸入を上回り、成金なりきんと呼ばれるお金持ちが出現した。
- ウ 戦争に必要な物資の注文を受け、経済復興が早まった。
- エ オリンピック東京大会が開かれ、白黒テレビが普及ふきゅうした。

問題は次のページに続きます。

3 国際関係について、次の文章を読み、あとの問に答えなさい。

1945年に世界の平和を守ることを目的として、国際連合がつくられました。また、長い間植民地とされてきた①アジアやアフリカの国々は、次々と独立を果たしました。日本は、1951年、(A) でひらかれた講和会議で、世界の48か国と平和条約を結び、独立を回復しました。しかし、同時に(B) 条約が結ばれ、独立後も、②アメリカ軍が日本各地にとどまることになりました。1956年には、日本は国際連合への加盟が認められ、国際社会へ復帰しました。

世界では、今でも戦争や紛争ふんそうがなくなっていません。国際連合では、③安全保障理事会が中心となって、戦争をふせいだり、国どうしが調停を結ぶ仲立ちをしたりして、④平和を守るための活動を行っています。

今、世界各国は⑤地球温暖化などの深刻な問題かんきょうに向かいあっています。こうした環境問題は、一国だけの努力で解決できる問題ではないため、国際連合を中心に、⑥各国の政府やNGOなどが協力して、さまざまな取り組みを進めています。

問1 文中の(A) に入る国の名前を答えなさい。

問2 文中の(B) に入る言葉を答えなさい。

問3 下線部①に関する説明で誤っているものを、次のア～エの中から1つ選び、記号で答えなさい。

ア 中国では、第二次世界大戦後に内戦が終了し、1949年に中華人民共和國ちゅうかじんみんきょうわこくが成立した。

イ 中東では、第二次世界大戦後に、イスラエル建国とそれに反対するアラブ諸国との間で4度の戦争がおこった。

ウ 1950年に朝鮮戦争ちようせんがおこると、連合国は日本の治安を守るという理由で、自衛隊をつくることを命令した。

エ アフリカの大部分は、ヨーロッパの国々によって支配されていたが、1960年に、次々と独立をしたため「アフリカの年」とよばれた。

問4 下線部②について、最も多くの面積がアメリカ軍基地として使われている都道府県を、次のア～エの地図の中から1つ選び、記号で答えなさい。
(縮尺は同一ではない。一部の島は省略している。)



ア



イ



ウ



エ

問5 下線部③の安全保障理事会についての説明の中で正しいものを、次のア～エの中から1つ選び、記号で答えなさい。

- ア 安全保障理事会には全加盟国が参加しており、平和についての重要な取り決めをおこなっている。
- イ 安全保障理事会の最高責任者のことを事務総長といい、全加盟国の投票で選ばれる。
- ウ 安全保障理事会では、アメリカ、ドイツ、フランス、イギリス、ロシアが常任理事国として強い権限をもっている。
- エ 重要事項^{じこう}について、常任理事国のうち一国でも反対すれば決定ができないが、この権限のことを拒否権^{きよひ}という。

問6 下線部④について、日本が平和条約を結んでいない国を、次のア～エの中から1つ選び、記号で答えなさい。

- ア ロシア イ アメリカ ウ 中国 エ カナダ

問7 下線部⑤について、地球環境問題の説明として、誤っているものを、次のア～エの中から1つ選び、記号で答えなさい。

ア 北アフリカなどの雨が少ない地域では、木を切りすぎたり家畜を放牧しすぎたりすることが原因の砂漠化が問題である。

イ 工場や自動車の排気ガスなどの影響で降る酸性度の強い雨のため、とくにヨーロッパや北アメリカで被害が多い。

ウ 石炭や石油などの化石燃料を燃やすことで発生する二酸化炭素の増加は、地球温暖化の原因となる。

エ 温室効果ガスがふえてオゾン層が破壊されると、有害な赤外線がふえ、人の健康や作物に悪い影響が出る。

問8 下線部⑥について、NGOの役割を説明しなさい。その際、次の【】内の語句を全て1回以上使うこと。

【 政府 民間 医療 人権 】

問題は以上です。

